

問題

雲は、どのような動き方をするのだろうか。また、雲の動きと天気の変化には、どのような関係があるのだろうか。

計画




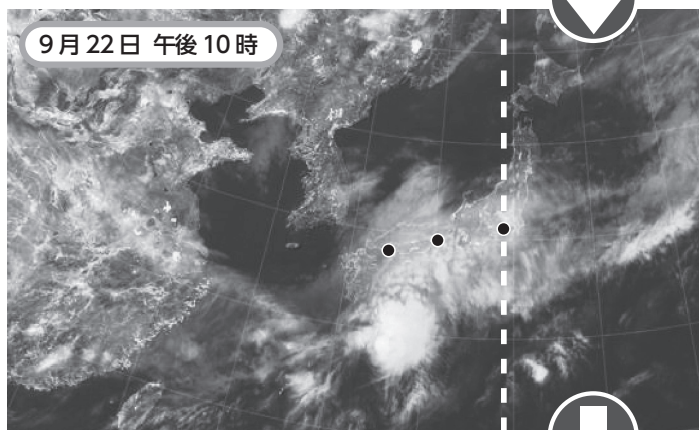

2

調べる

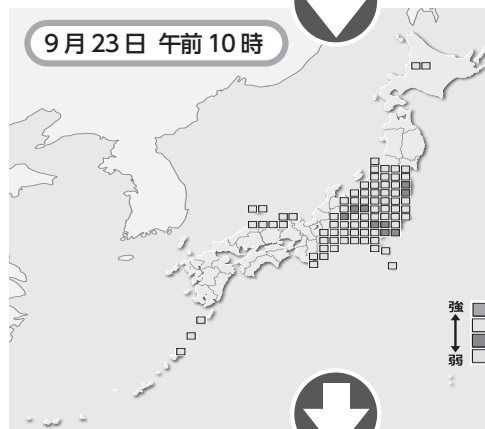


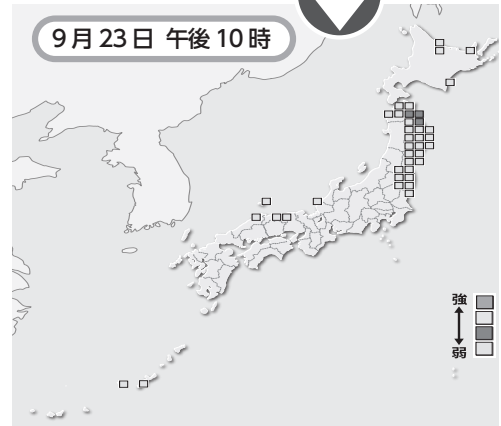
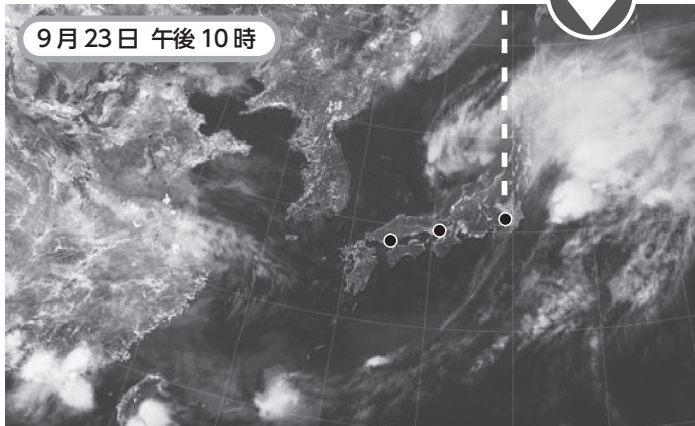
雲の動きと天気の変化には、
どのような関係があるか調べる

雲画像



アメダスのこう雨情報





考察



○㉗の雲は、時間がたつにつれて、どの方位からどの方位へ動きましたか。

○雨のふる地いきの移り変わりは、雲の動きと関係していますか。

○雲や雨のふる地いきの移り変わりによって、㉘の地いきの天気はどのように変わりましたか。

わかった
こと