

2-4

実ができるころ

○しぜんのかんさつ 2

名前


1 ホウセンカやヒマワリの花がさいた後に、
下の図のようなものができていました。

ア、イのどちらがヒマワリで、どちらが
ホウセンカでしょうか。()に書きましょう。

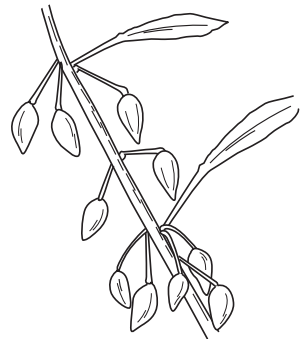


教科書
81~83 ページ

ア



イ









() ()

2 下の図のホウセンカが育つじゅんに、ア～オ
の □ の中に番号を書きましょう。



教科書
84 ページ

 <div style="border: 1px solid black; width: 50px; height: 50px; display: flex; align-items: center; justify-content: center; margin-left: 100px;">1</div>	 <div style="border: 1px solid black; width: 50px; height: 50px; display: flex; align-items: center; justify-content: center; margin-left: 100px;">ア</div>	 <div style="border: 1px solid black; width: 50px; height: 50px; display: flex; align-items: center; justify-content: center; margin-left: 100px;">イ</div>
 <div style="border: 1px solid black; width: 50px; height: 50px; display: flex; align-items: center; justify-content: center; margin-left: 100px;">ウ</div>	 <div style="border: 1px solid black; width: 50px; height: 50px; display: flex; align-items: center; justify-content: center; margin-left: 100px;">エ</div>	 <div style="border: 1px solid black; width: 50px; height: 50px; display: flex; align-items: center; justify-content: center; margin-left: 100px;">オ</div>