

## 7

## 光を調べよう②

名前

❶かがみ3まいではね返した日光をまともに集め、あたたかさや明るさをかがみ1まいのときとくらべます。次の(1)と(2)について、あてはまる言葉を〔 〕からえらんで○でかこみましょう。



教科書  
101~103 ページ

(1)あたたかいのは 〔 3まい分の日光・1まい分の日光 〕

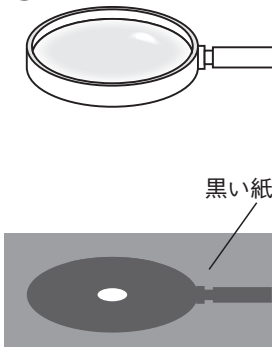
(2)明るいのは 〔 3まい分の日光・1まい分の日光 〕

❷虫めがねを使って、下の図のように日光を集めました。

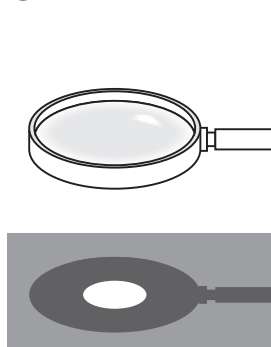


教科書  
104~105 ページ

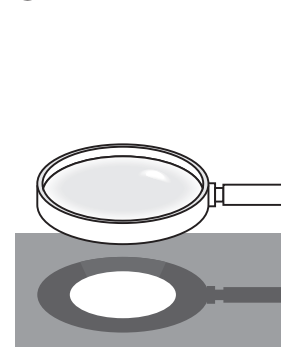
ア



イ



ウ



(1)ア～ウのうち、集まった日光がもっとも明るいのはどれでしょうか。記号を書きましょう。 ( )

(2)日光が小さく集められているところの温度は、どのようになっているでしょうか。( )にあてはまる言葉を書きましょう。

紙が( )くらいあつくなっている。