

**1**金ぞくのぼうにろうをぬって熱しました。

(1)図のように、金ぞくのぼうを横にして熱

したとき、ろうがとける順に㉠～㉣の

記号をならべかえて書きましょう。

( ) → ( ) → ( ) → ( )

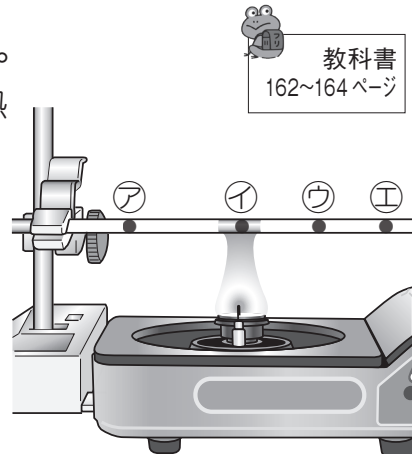
(2)図の金ぞくのぼうを、㉠を下にして

ななめにかたむけて熱した。ろうが

とける順に㉠～㉣の記号をならべかえて

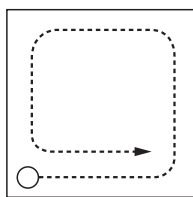
書きましょう。

( ) → ( ) → ( ) → ( )

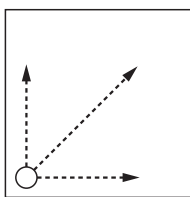
**2**右の図のように、ろうをぬった金ぞくの板のはしを

熱しました。ろうがとけていくようすを矢印で表し

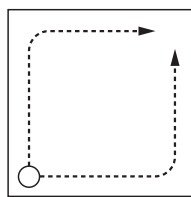
たものを、㉠～㉣から選んで記号を書きましょう。



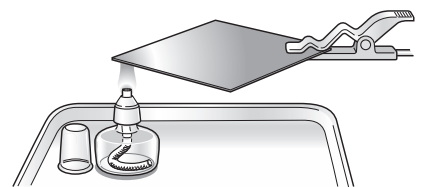
㉠



㉡



㉢



( )

**3**金ぞくの温まり方について、次の文で正しいもの

には○を、まちがっているものには×を書きましょう。

① ( ) 金ぞくは、熱したところから順に温まる。

② ( ) 金ぞくは、全体が同じように温まる。