

1

季節と生き物 -1 思い出そう

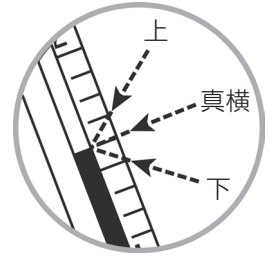
名前

1 温度計の目もりの読み方について、あてはまる言葉を〔 〕の中から選んで○でかこみましょう。



教科書
3年 35 ページ

(1) 右の図のように、温度計がななめになっているときは、えきの先の目もりを〔 上・真・横・下 〕から読む。



(2) えきの先に〔 近い・遠い 〕方の目もりを読む。

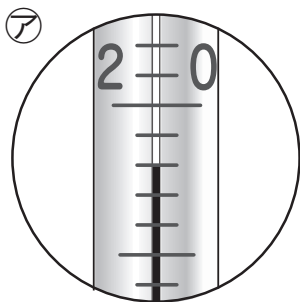
(3) 右の図のように、えきの先が目もりの真ん中にきたときは、〔 上・下 〕の方の目もりを読む。



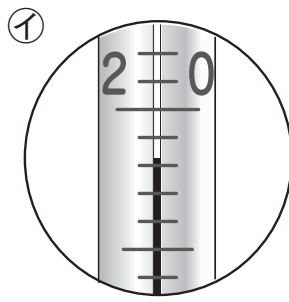
2 下の図の㉗～㉙の温度計の目もりは、何℃と読めばよいでしょうか。



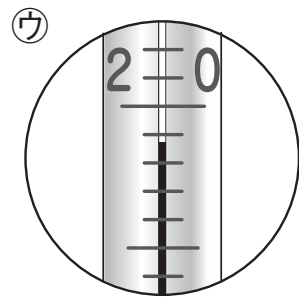
教科書
3年 35 ページ



()℃



()℃



()℃