

# 4

## 電気のはたらき②

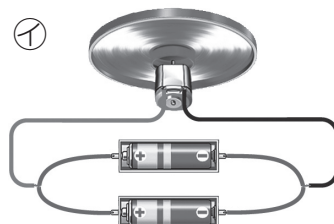
名前

1 次の文の ( ) にあてはまる言葉を、書きましょう。



教科書  
44~46 ページ

- (1) 図の㉗のようなかん電池のつなぎ方を ① ( )  
つなぎといい、㉘のようなつなぎ方を ② ( )  
つなぎという。





- (2) かん電池 1 このときよりモーターが速く回るのは、  
( ) つなぎのときである。

2 下の㉗、㉘の回路と電流の大きさについて、次の文の ( ) にあてはまる言葉を、下の  から選んで書きましょう。



教科書  
47~49 ページ



- (1) ㉗のように 2 このかん電池を ① ( ) つなぎにしたとき、  
回路に流れる電流の大きさは、かん電池 1 このときよりも  
② ( ) くなる。
- (2) ㉘のように 2 このかん電池を ① ( ) つなぎにしたとき、  
回路に流れる電流の大きさは、㉗とくらべると ② ( ) い。

へい列 直列 大き 変わらな 小