


# 1 ふりこの運動①

名前

1 下の図は、ふりこのつくりを示したものです。

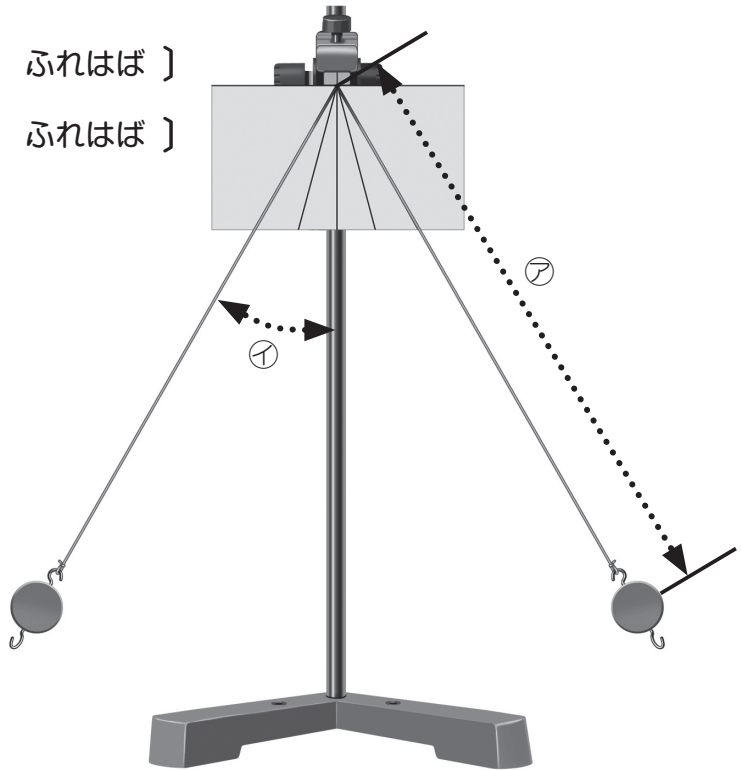
㊦と㊧はそれぞれ何を表しているでしょうか。

あてはまるものを〔 〕の中から選んで○で囲みましょう。


 教科書  
8~11 ページ

㊦〔 ふりこの長さ ・ ふれはば 〕

㊧〔 ふりこの長さ ・ ふれはば 〕



2 ふりが 1 往復する時間の求め方について、次の文の ( )  
にあてはまる数字を書きましょう。

 教科書  
8~11 ページ

ふりが 1 往復する時間は短く、正確に計ることはむずかしいので、  
10 往復したときの時間を計り、それを ( ) でわり、1 往復する時間  
を求める。