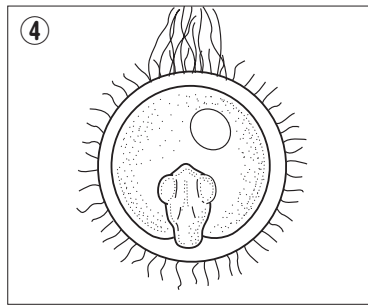
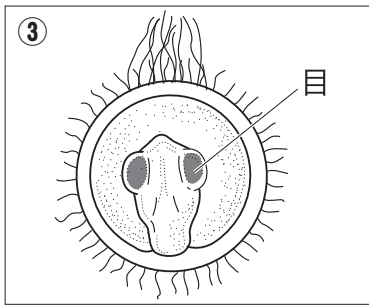
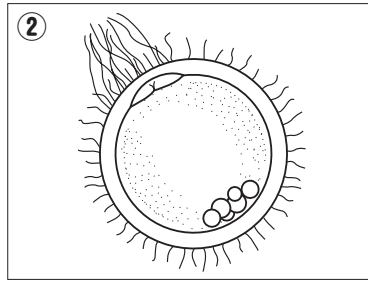



1 メダカの成長のようすを観察しました。下の図の①～④を、成長する順にならべかえて番号を書きましょう。



教科書
44～47ページ



() → () → () → ()

2 次の文の()にあてはまる言葉を書きましょう。



教科書
48～49ページ

たまごの中の子メダカは、たまごにたくわえられた(①)で育つ。
かえったばかりの子メダカのはらの(②)は、この(①)の残り
である。かえった子メダカは、数日間はこの(①)で育つ。

①()

②()