

5




雲と天気の変化②

名前

1 下の雲画像ア～エを、時この早い順にならべかえて記号を書きましょう。



教科書
86～90 ページ



() → () → () → ()

2 次の文の () にあてはまる言葉を書きましょう。

雲はおよそ ① () から ② () へ動く。

天気は、雲が動くにつれて、およそ (①) から (②) へと変わる。



教科書
86～90 ページ

3 次の文の () にあてはまる言葉を書きましょう。

天気を予想するときには、住んでいる地いきよりも

① () の地いきの天気が手がかりになる。

また、現在見られる ② () のようすや種類なども、
天気を予想するときの手がかりになる。



教科書
86～90 ページ