


1 図のように、池の底の落ち葉や小石の表面についているものをそぎ落として集め⑦を作り、けんび鏡で観察しました。



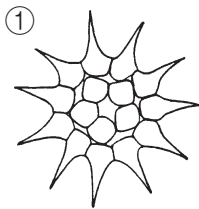
教科書
69~72 ページ



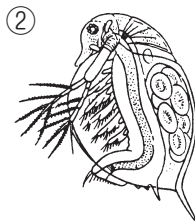
(1) けんび鏡で観察するために作った、図の⑦を何というでしょうか。

()

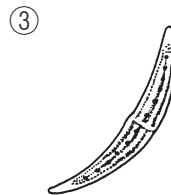
(2) 図は、けんび鏡で見えた生物です。①～④の図と名前を線でつなぎましょう。



ミジンコ



ワムシ



ミカツキモ



クンショウモ

(3) 次の①～③の生物を、小さい順にならべかえて番号を書きましょう。

①コサギ ②ミジンコ ③メダカ
() → () → ()

2 池や小川にすんでいる野生のメダカは、何を食べて生きているでしょうか。

()



教科書
69~72 ページ