

10 ものの温まり方①

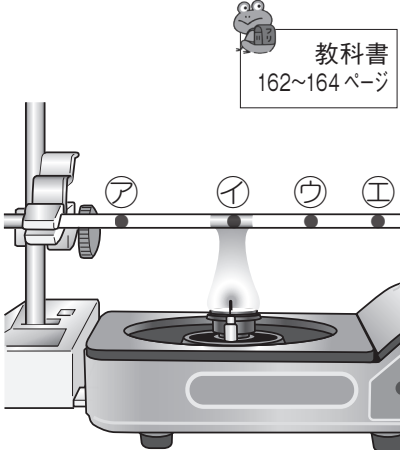
○ものせいしつ 4

名前

1 金ぞくのぼうにろうをぬって熱しました。

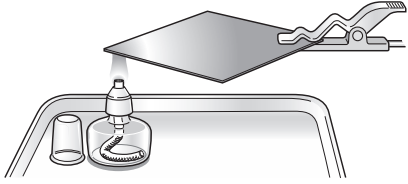
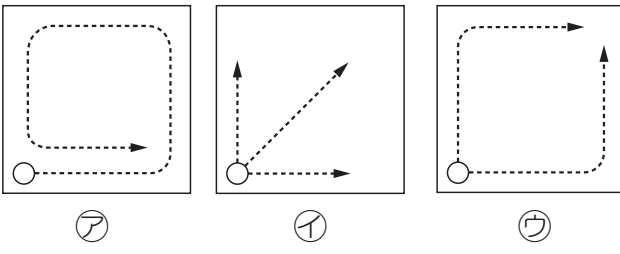
(1) 図のように、金ぞくのぼうを横にして熱したとき、ろうがとける順にア～エの記号をならべかえて書きましょう。
 () → () → () → ()

(2) 図の金ぞくのぼうを、アを下にしてななめにかたむけて熱した。ろうがとける順にア～エの記号をならべかえて書きましょう。
 () → () → () → ()



教科書
162~164 ページ

2 右の図のように、ろうをぬった金ぞくの板のはしを熱しました。ろうがとけていくようすを矢印で表したものを、ア～ウから選んで記号を書きましょう。



教科書
162~164 ページ

()

3 金ぞくの温まり方について、次の文で正しいものには○を、まちがっているものには×を書きましょう。

- ① () 金ぞくは、熱したところから順に温まる。
- ② () 金ぞくは、全体が同じように温まる。

教科書
162~164 ページ