

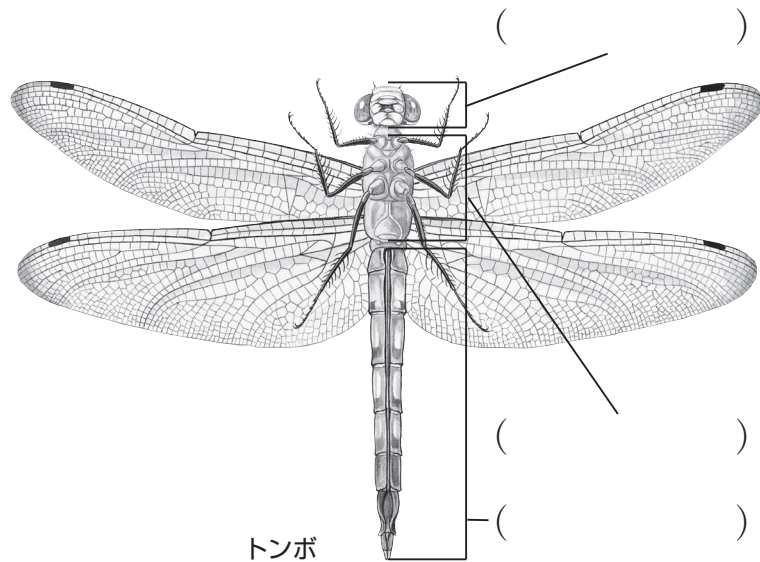


3年

5. こん虫を調べよう

1. こん虫のからだのつくりについて、次の問いに答えなさい。 **知識** (各3点)

(1) 下の図のそれぞれの部分を何というか。
() にあてはまる言葉を書きなさい。



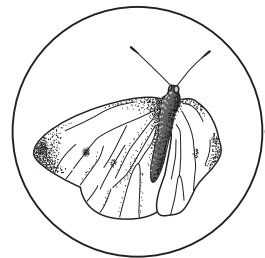
(2) 次の文の () にあてはまる言葉を書きなさい。

- ① こん虫の成虫^{せいちゆう}のからだは、() ・ () ・ () の3つに分けることができる。
- ② () には、あしが()本ついている。
- ③ こん虫は、さまざまな場所を() にし、植物を() にするなど、まわりのしぜんとかかわって生きている。


氏名	
組	

2. 次の問いに答えなさい。 **技能** (各6点)

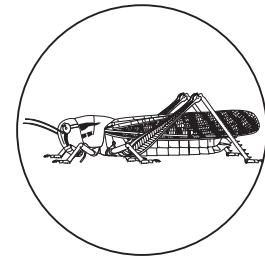
(1) 下のこん虫とすみかを線でつなぎなさい。



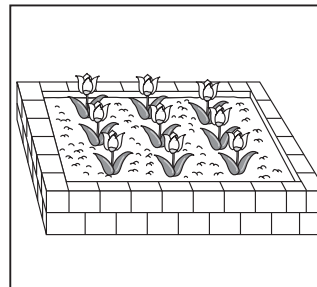
① モンシロチョウ



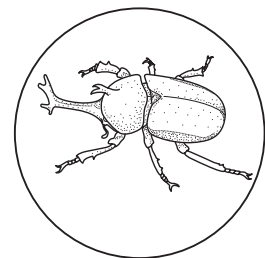
㉞ 林



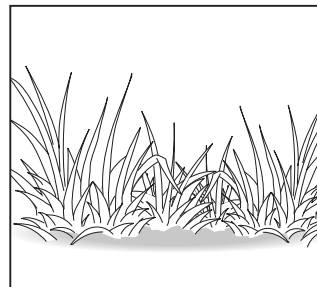
② トノサマバッタ



㉟ 花だん



③ カブトムシ



㉟ 草むら

(2) 上の①と②は、それぞれ何を食べて生きているか。

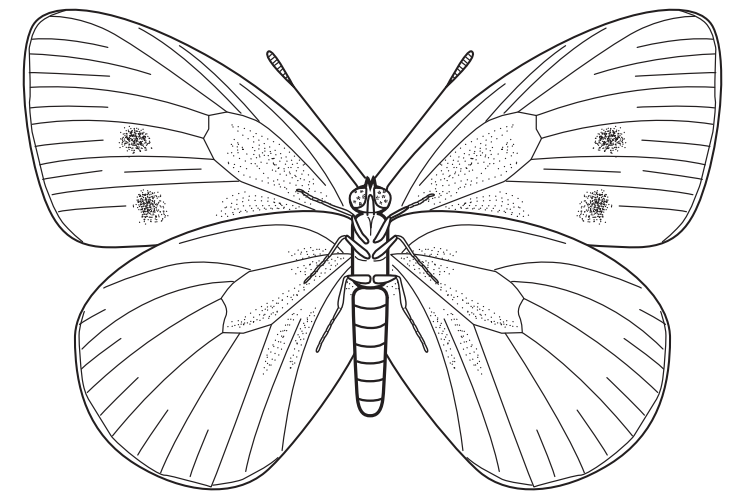
知識 (各6点)

- ① ()
- ② ()

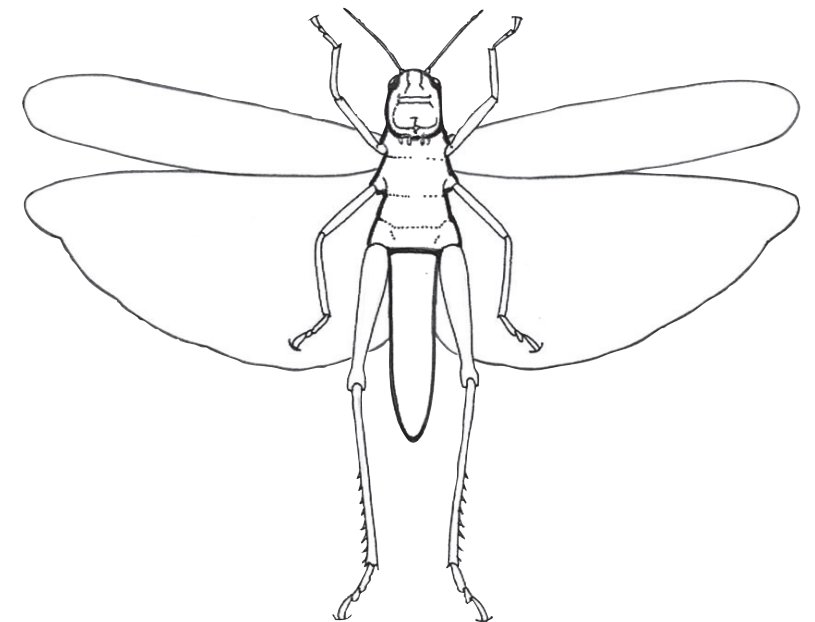
知識	観察・実験の技能	思考・判断・表現	合計
/42	/18	/40	/100

3. 下の図のモンシロチョウとトノサマバッタのからだについて、頭を赤、むねを青、はらを黄色でぬり分けなさい。

思考・判断・表現 (各完答20点)



モンシロチョウ



トノサマバッタ