

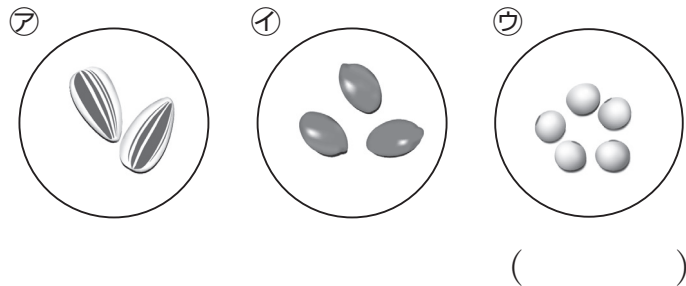


4年

# 1.季節と生き物

## 1-1 あたたくくなって

1. ヘチマのたねを下の㉗～㉙の中から選び、記号で答えなさい。 **知識** (5点)



2. 春の生き物のようすを調べた。( )にあてはまる言葉を書きなさい。 **知識** (各5点)

- (1) 春の晴れた日の気温は、冬の晴れた日にくらべて ( ) になってきた。
- (2) ヘチマなどの植物は、春に ( ) をまく。
- (3) 春には、テントウムシやアゲハなどのこん虫や、カエルなどの動物が ( ) を産む。

3. ヘチマの植えかえをするのは、下の図の㉗～㉙のどのところか。記号で答えなさい。

**知識** (5点)




㉗ たねをまいてすぐ      ㉘ 芽が出てきたころ      ㉙ 葉が3～5まいになったころ

( )

氏名	
組	

4. 下の㉗～㉙の中で、春に見られるようすはどれか。4つ選び、記号で答えなさい。 **知識** (各5点)



㉗ 巣をつくり、たまごを産むツバメ      ㉘ 活動がにぶくなったアマガエル



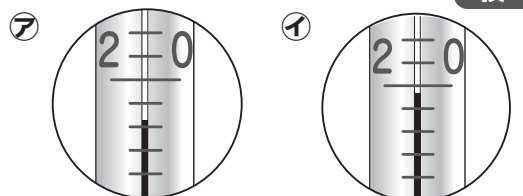
㉙ たまごを産むオオカマキリ      ㉚ たまごからかえったオオカマキリ



㉛ 花のみつをすうアゲハとそのたまご      ㉜ たまごを産むナナホシテントウ

( ) ( ) ( ) ( )

5. 温度計は、えきの先に近い方の目もりを読む。下の温度計は、何℃と読めばよいか。 **技能** (各5点)



( )℃      ( )℃

知識	観察・実験の技能	思考・判断・表現	合計
/45	/10	/45	/100

6. これから1年間、生き物のようすを観察していく。次の問いに答えなさい。 **思考・判断・表現**

(1) 次の文は、1年間の観察の計画を立てるときについて書いている。正しいものには○を、まちがっているものには×を書きなさい。 (各5点)

- ( ) 気温をはかる時こくと場所を決めておく。
- ( ) くもりの日に気温をはかる。
- ( ) 気温をはかるときは、時こくや場所を決めずに、気がついたときにはかる。
- ( ) 観察する生き物は、その種類をきちんと決めておく。
- ( ) 育てている植物の育ち方を、続けて観察し、記録しておく。
- ( ) 季節ごとに、気にいった生き物を観察し、1年間を通して、同じ種類の生き物を続けて観察する必要はない。

(3) あたたくくなるにつれて、サクラのえだはどのように変化していくか。下の図の㉗～㉙を、変化の順にならべなさい。 (完答5点)



( ) → ( ) → ( )

(2) これから夏にかけて、晴れた日の気温はどうなっていくか。予想を書きなさい。 (10点)