



4年 1.季節と生き物
1-2 暑い季節

氏名	
組	

知識	思考・判断・表現	合計
/40	/60	/100

1. 春から夏にかけて、気温や生き物のようすはどのように変わったか。正しいものを2つ選び、○を書きなさい。 **知識** (各5点)

- () 気温は低くなってきた。
- () 気温は高くなってきた。
- () 草木のようすは、ほとんど変わらない。
- () 生き物の数は少なくなってきた。
- () 動物の活動はさかんになってきた。
- () 生き物のようすは、ほとんど変わらない。

2. 夏のころのヘチマのようすについて、次の問いに答えなさい。 **知識** (各5点)

(1) 下の図の中で、夏のヘチマのようすとして正しいものを選び、○を書きなさい。



() () ()

(2) 次の文の中で、夏のヘチマのようすとして正しいものを2つ選び、○を書きなさい。

- () 芽が出て、小さな葉が出てきた。
- () 葉が大きくなり、色もこくなった。
- () くきがのびて、花がさき始めた。
- () 葉がかれ始め、実が大きくなった。

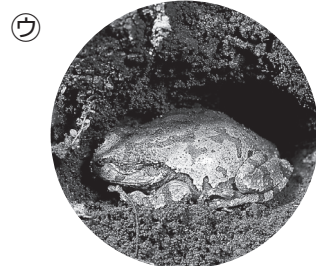
3. 下の㉗～㉙の中で、夏に見られるようすはどれか。3つ選び、記号で答えなさい。 **知識** (各5点)



さなぎから成虫になる
ナナホシテントウ



ひなに食べ物をあたえるツバメ



土の中でじっとしている
アマガエル



オオカマキリのような虫

() () ()

4. 下の記録用紙に記録した月日は、㉗、㉘のどちらか。記号で答えなさい。 **思考・判断・表現** (完答20点)

㉗ 5月16日 ㉘ 6月16日

のびてきたヘチマ

園くもり 19°C(午前10時) 吉田 広子

くきの大きさはえんぴつくらい

20 cm

子葉

- ヘチマの葉がさまいになったので、挿えかえをしました。
- くきの大きさは、20cmです。
- これから気温が高くなると、どんだんのびていくと思います。

()

ぐんぐんのびてきた

園くもり 25°C(午前10時) 山口 和男

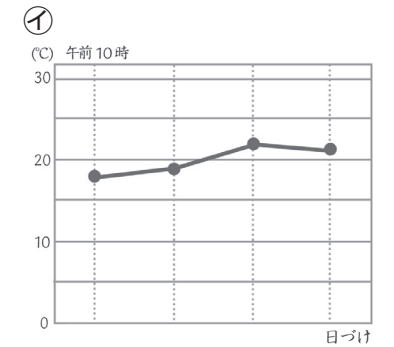
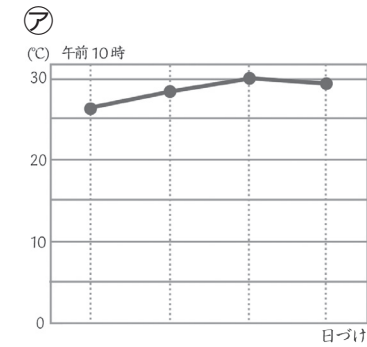
まきひげがたくさん出ている。

82 cm

- くきがのびて、葉もふえてきた。
- このごろぐんぐんとのびてきているようだ。
- どこまでのびるかな？

()

5. 下の図は、春のころと夏のころの気温を調べ折れ線グラフに表したものである。次の問いに答えなさい。 **思考・判断・表現** (各10点)



- (1) 夏のころの折れ線グラフは、㉗、㉘のどちらか。
()
- (2) ㉗と㉘をくらべて、春から夏にかけての気温について、どのようなことがいえるか。

6. 気温や生き物の変化について、次の問いに答えなさい。 **思考・判断・表現** (各10点)

(1) 夏になり、気温が変化するにつれて、動物や植物のようすはどのようになってきたか。

(2) これから秋にかけて、晴れた日の気温はどうなっていくか。予想して書きなさい。